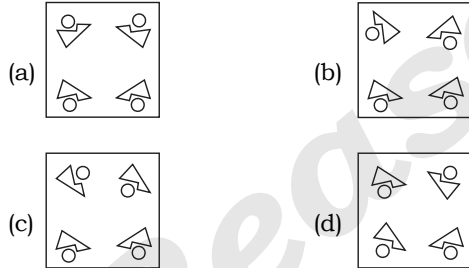
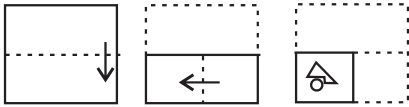


PAPER CUTTING AND FOLDING

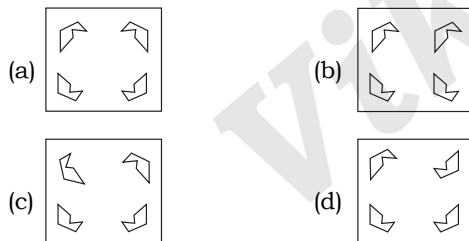
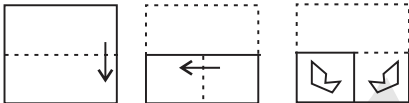
1. The sequence of folding a piece of paper and the manner in which the folded paper has been cut is shown below. Choose a figure which would most closely resemble the unfolded form of the paper.

नीचे एक कागज के एक टुकड़े को मोड़ने का क्रम और मुड़े हुए कागज को काटने का तरीका दर्शाया गया है। दिए गए विकल्पों में से वह आकृति चुनें जो कागज के खुले हुए रूप में सर्वाधिक मिलती-जुलती हो।



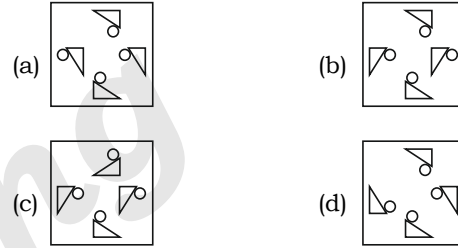
2. The sequence of folding a piece of paper and the manner in which the folded paper has been cut is shown below. Choose a figure which would most closely resemble the unfolded form of the paper.

नीचे एक कागज के एक टुकड़े को मोड़ने का क्रम और मुड़े हुए कागज को काटने का तरीका दर्शाया गया है। दिए गए विकल्पों में से वह आकृति चुनें जो कागज के खुले हुए रूप में सर्वाधिक मिलती-जुलती हो।



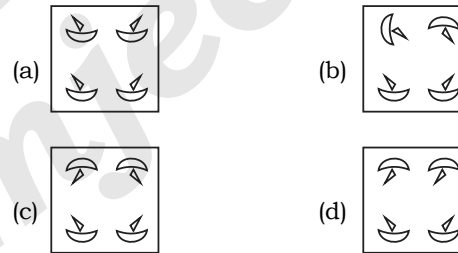
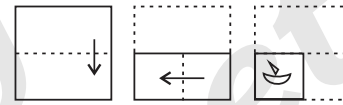
3. The sequence of folding a piece of paper and the manner in which the folded paper has been cut is shown below. Choose a figure which would most closely resemble the unfolded form of the paper.

नीचे एक कागज के एक टुकड़े को मोड़ने का क्रम और मुड़े हुए कागज को काटने का तरीका दर्शाया गया है। दिए गए विकल्पों में से वह आकृति चुनें जो कागज के खुले हुए रूप में सर्वाधिक मिलती-जुलती हो।



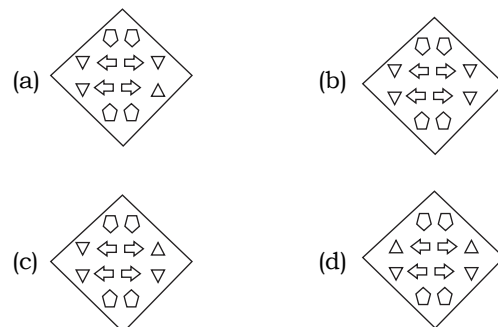
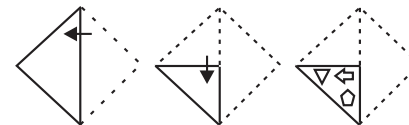
4. The sequence of folding a piece of paper and the manner in which the folded paper has been cut is shown below. Choose a figure which would most closely resemble the unfolded form of the paper.

नीचे एक कागज के एक टुकड़े को मोड़ने का क्रम और मुड़े हुए कागज को काटने का तरीका दर्शाया गया है। दिए गए विकल्पों में से वह आकृति चुनें जो कागज के खुले हुए रूप में सर्वाधिक मिलती-जुलती हो।



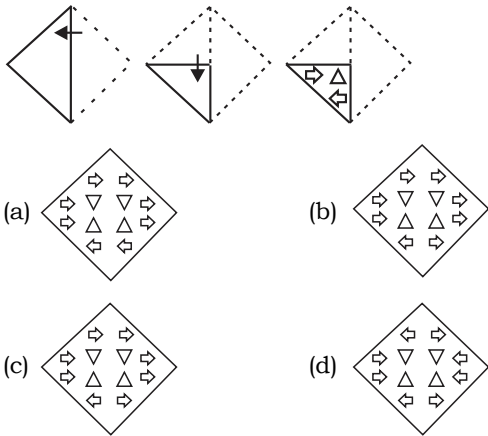
5. A paper is folded and cut as shown below. How will it appear when unfolded?

एक कागज को नीचे दिखाए अनुसार मोड़ा और काटा जाता है। कागज को खोलने पर यह कैसा दिखाई देगा?



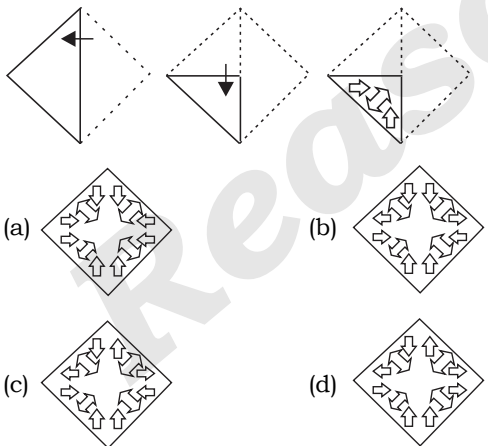
6. A paper is folded and cut as shown below. How will it appear when unfolded?

एक कागज को नीचे दिखाए अनुसार मोड़ा और काटा जाता है। कागज को खोलने पर यह कैसा दिखाई देगा?



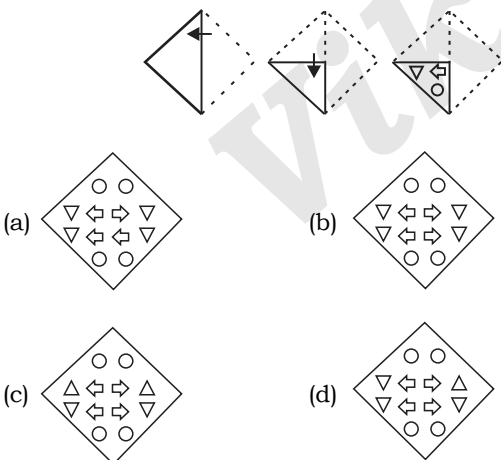
7. A paper is folded and cut as shown below. How will it appear when unfolded?

एक पेपर को मोड़ा जाता है और नीचे दिखाए अनुसार काटा जाता है। खोलने पर यह कैसा दिखाई देगा?



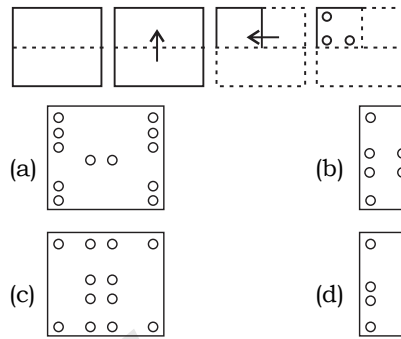
8. A paper is folded and cut as shown below. How will it appear when unfolded?

एक कागज को नीचे दिखाए अनुसार मोड़ा और काटा जाता है। कागज को खोलने पर यह कैसा दिखाई देगा?



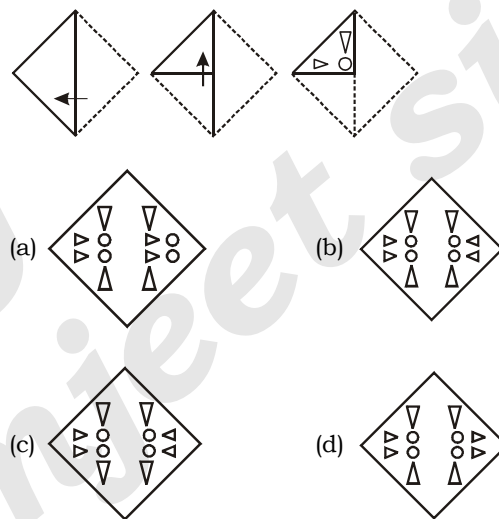
9. A paper is folded and cut as shown below. How will it appear when unfolded?

एक कागज को नीचे दिए गए चित्र के अनुसार मोड़ा और काटा जाता है। कागज को खोलने पर यह कैसा दिखाई देगा?



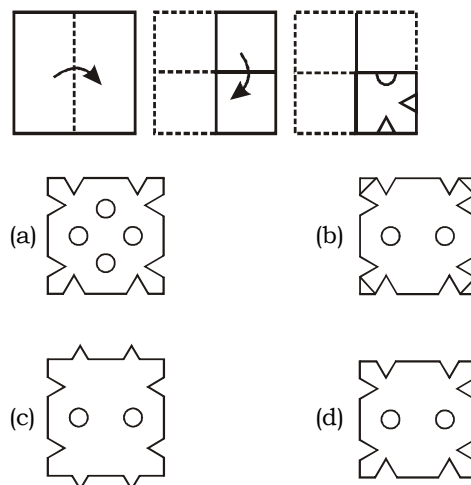
10. The sequence of folding a piece of paper and the manner in which the folded paper has been cut is shown in the following figures. How would this paper look when unfolded?

निम्नांकित आकृतियों में कागज के एक टुकड़े को मोड़ने का क्रम और मुड़े हुए कागज को काटने का तरीका दिखाया गया है। यह कागज खोलने पर कैसा दिखेगा?



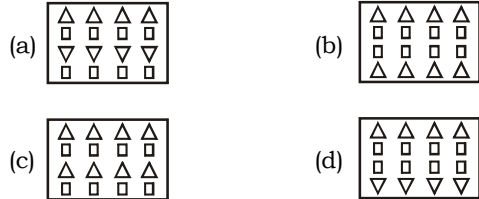
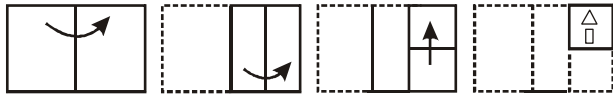
11. The sequence of folding a piece of paper and the manner in which the folded paper has been cut is shown in the following figures. How would this paper look when unfolded?

निम्नांकित आकृतियों में कागज के एक टुकड़े को मोड़ने का क्रम और मुड़े हुए कागज को काटने का तरीका दिखाया गया है। यह कागज खोलने पर कैसा दिखेगा?



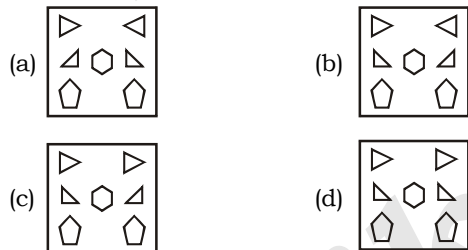
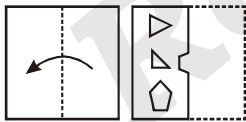
12. The sequence of folding a piece of paper and the manner in which the folded paper has been cut is shown in the following figures. How would this paper look when unfolded?

निम्नांकित आकृतियों में कागज के एक टुकड़े को मोड़ने का क्रम और मुड़े हुए कागज को काटने का तरीका दिखाया गया है। यह कागज खोलने पर कैसा दिखेगा?



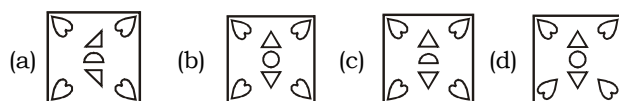
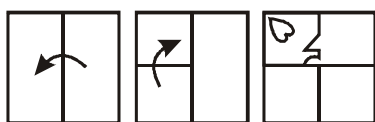
13. The sequence of folding a piece of paper (figure i) and the manner in which the folded paper has been cut (figure ii) is shown in the following figures. Select the option that would most closely resemble the unfolded form of figure (ii).

निम्न आकृतियों में कागज के एक टुकड़े को मोड़ने का क्रम (आकृति i में) दर्शाया गया है और मुड़े हुए कागज को काटने की विधि (आकृति ii में) दर्शाई गई है। उस विकल्प का चयन करें जो आकृति (ii) के खुले हुए रूप से सर्वाधिक मिलता जुलता हो।



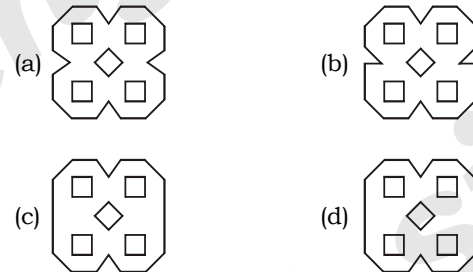
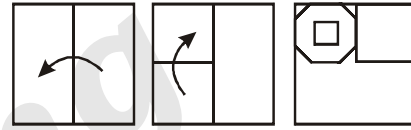
14. The sequence of folding a piece of paper (figures i and ii) and the manner in which the folded paper has been cut (figure iii) is shown in the following figures. Select the option that would most closely resemble the unfolded form of figure (iii).

निम्न आकृतियों में कागज के एक टुकड़े को मोड़ने का क्रम (आकृति i और ii में) दर्शाया गया है और मुड़े हुए कागज को काटने की विधि (आकृति iii में) दर्शाई गई है। उस विकल्प का चयन करें जो आकृति (iii) के खुले हुए रूप से सर्वाधिक मिलता जुलता हो।



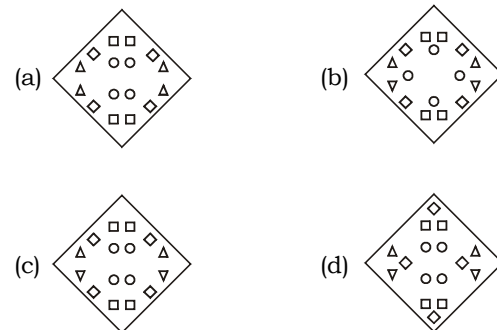
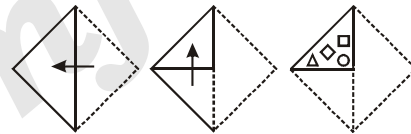
15. The sequence of folding a piece of paper (figures i and ii) and the manner in which the folded paper has been cut (figure iii) is shown in the following figures. Select the option that would most closely resemble the unfolded form of figure (iii).

निम्न आकृतियों में कागज के एक टुकड़े को मोड़ने का क्रम (आकृति i और ii में) दर्शाया गया है और मुड़े हुए कागज को काटने की विधि (आकृति iii में) दर्शाई गई है। उस विकल्प का चयन करें जो आकृति (iii) के खुले हुए रूप से सर्वाधिक मिलता जुलता हो।



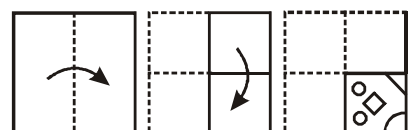
16. The sequence of folding a piece of paper and the manner in which the folded paper has been cut is shown in the following figure. How would this paper look when unfolded?

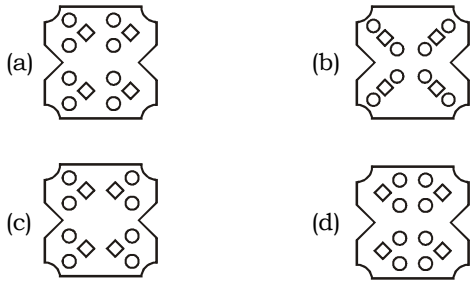
निम्नांकित आकृतियों में कागज के एक टुकड़े को मोड़ने का क्रम और मुड़े हुए कागज को काटने का तरीका दिखाया गया है। यह कागज खोलने पर कैसा दिखेगा?



17. The sequence of folding a piece of paper and the manner in which the folded paper has been cut is shown in the following. How would this paper look when unfolded?

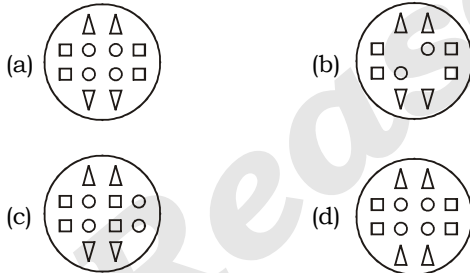
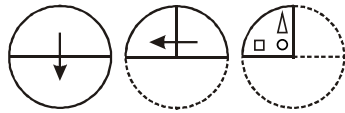
निम्नांकित आकृतियों में कागज के लिए टुकड़े को मोड़ने का क्रम और मुड़े हुए कागज का काटने का तरीका दिखाया गया है। यह कागज खोलने पर कैसा दिखेगा?





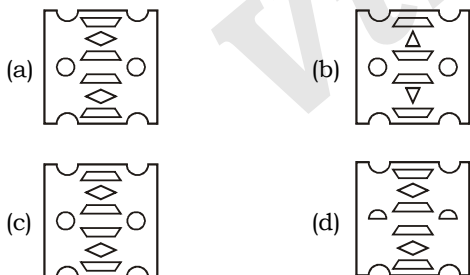
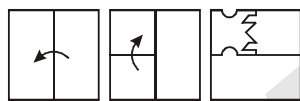
18. The sequence of folding a piece of paper and the manner in which the folded paper has been cut is shown in the following figures. How would this paper look when unfolded?

निम्नांकित आकृतियों में कागज के एक टुकड़े को मोड़ने का क्रम और मुड़े हुए कागज को काटने का तरीका दिखाया गया है। यह कागज खोलने पर कैसा दिखेगा?



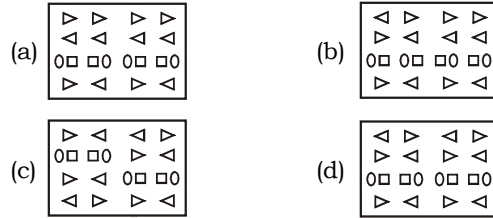
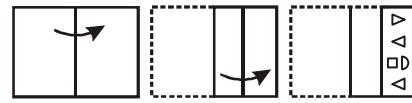
19. The sequence of folding a piece of paper (figure i and ii) and the manner in which the folded paper has been cut (figure iii) is shown in the following figures. Select the option that would most closely resemble the unfolded form the figure (iii).

निम्न आकृतियों में कागज के एक टुकड़े को मोड़ने का क्रम (आकृति i और ii में) दर्शाया गया है और मुड़े हुए कागज को काटने की विधि (आकृति iii में) दर्शाई गई है। उस विकल्प का चयन करें जो आकृति (iii) के खुले हुए रूप से सर्वाधिक मिलता जुलता हो।



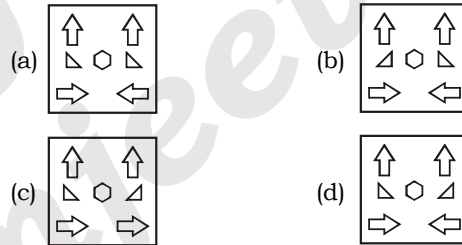
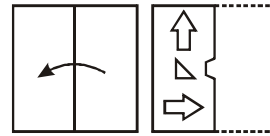
20. The sequence of folding a piece of paper and the manner in which folded paper has been cut is shown in the following figures. How would this paper look when unfolded?

निम्नांकित आकृतियों में कागज के एक टुकड़े को मोड़ने का क्रम और मुड़े हुए कागज को काटने का तरीका दिखाया गया है। यह कागज खोलने पर कैसा दिखेगा?



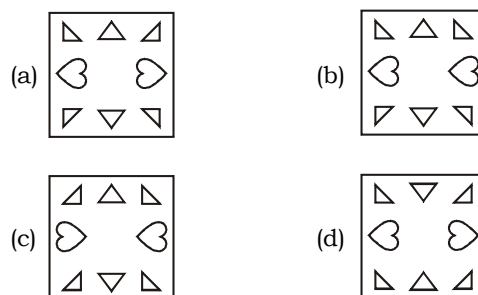
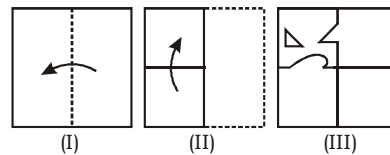
21. The sequence of folding a piece of paper (figure i) and the manner in which the folded paper has been cut (figure ii) is shown in the following figure. Select the option that would most closely resemble the unfolded form of figure (ii).

निम्न आकृतियों में कागज के एक टुकड़े को मोड़ने का क्रम (आकृति i में) दर्शाया गया है। और मुड़े हुए कागज को काटने की विधि (आकृति ii में) दर्शाई गई है। उस विकल्प का चयन करें जो आकृति (ii) के खुले हुए रूप से सर्वाधिक मिलता जुलता हो।



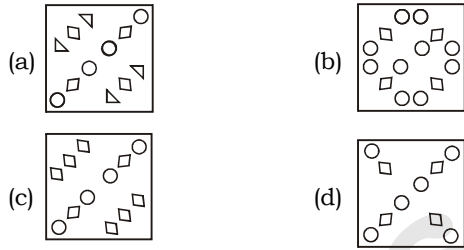
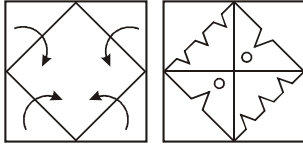
22. The sequence of folding a piece of paper (figure i and ii) and the manner in which the folded paper has been cut (figure iii) is shown in the following figures. Select the option that would mostly closely resemble the unfolded form of figure (iii).

निम्न आकृतियों में कागज के एक टुकड़े को मोड़ने का क्रम (आकृति i और ii में) दर्शाया गया है और मुड़े हुए कागज को काटने की विधि (आकृति iii में) दर्शाई गई है। उस विकल्प का चयन करें जो आकृति (iii) के खुले हुए रूप से सर्वाधिक मिलता-जुलता हो।



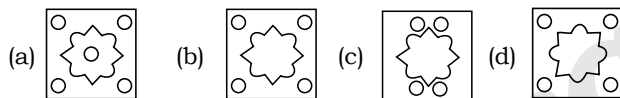
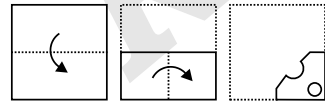
23. The sequence of folding a piece of paper (figures i) and the manner in which the folded paper has been cut (figure ii) is shown in the following figures. Select the option that would most closely resemble the unfolded form of figure (ii).

निम्न आकृतियों में कागज के एक टुकड़े को मोड़ने का क्रम (आकृति i) दर्शाया गया है और मुड़े हुए कागज को काटने की विधि (आकृति ii में) दर्शाई गई है। उस विकल्प का चयन करें जो आकृति (ii) के खुले हुए रूप के सर्वाधिक मिलता जुलता हो।



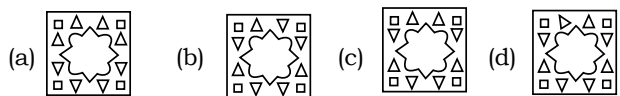
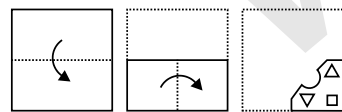
24. A piece of paper is folded and punched as shown below in the question figures. From the given answer figures indicate how it will appear when opened?

कागज के एक टुकड़े को मोड़ा जाता है और उसमें छेद किया जाता है, जैसा कि नीचे प्रश्न आकृतियों में दिखाया गया है। दी गई उत्तर आकृतियों में से बताइए कि खोले जाने के बाद वह किस उत्तर आकृति के समान दिखाई देगी?



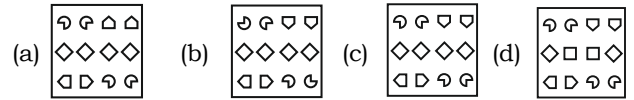
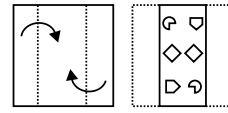
25. A piece of paper is folded and punched as shown below in the question figure. From the given answer figures, indicate how it will appear when opened?

कागज के एक टुकड़े को मोड़ा जाता है और उसमें छेद किया जाता है, जैसा कि नीचे प्रश्न आकृतियों में दिखाया गया है। दी गई उत्तर आकृतियों में से बताइए कि खोले जाने के बाद वह किस उत्तर आकृति के समान दिखाई देगी?



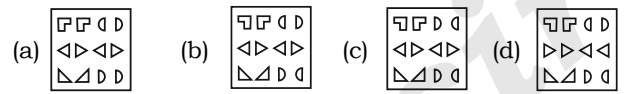
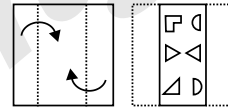
26. A piece of paper is folded and punched as shown below in the question figures. From the given answer figures, indicate how it will appear when opened?

कागज के एक टुकड़े को मोड़ा जाता है और उसमें छेद किया जाता है, जैसा कि नीचे प्रश्न आकृतियों में दिखाया गया है। दी गई उत्तर आकृतियों में से बताइए कि खोले जाने के बाद वह किस उत्तर आकृति के समान दिखाई देगी?



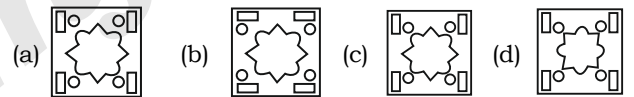
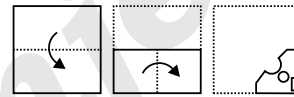
27. A piece of paper is folded and punched as shown below in the question figures. From the given answer figures, indicate how it will appear when opened?

कागज के एक टुकड़े को मोड़ा जाता है और उसमें छेद किया जाता है, जैसा कि नीचे प्रश्न आकृतियों में दिखाया गया है। दी गई उत्तर आकृतियों में से बताइए कि खोले जाने के बाद वह किस उत्तर आकृति के समान दिखाई देगी?



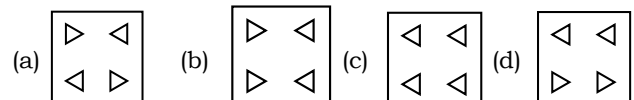
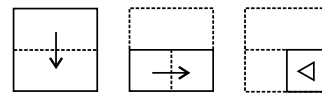
28. A piece of paper is folded and punched as shown below in the question figures. From the given answer figures, indicate how it will appear when opened?

कागज के एक टुकड़े को मोड़ा जाता है और उसमें छेद किया जाता है, जैसा कि नीचे प्रश्न आकृतियों में दिखाया गया है। दी गई उत्तर आकृतियों में से बताइए कि खोले जाने के बाद वह किस उत्तर आकृति के समान दिखाई देगी?



29. The sequence of folding a piece of paper and the manner in which the folded paper has been cut is shown in the following figures. How would this paper look when unfolded?

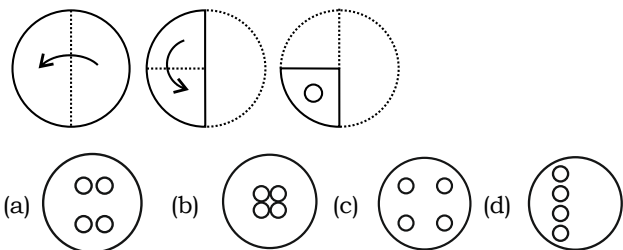
निम्नलिखित आकृतियों में किसी कागज के टुकड़े को मोड़ने के क्रम और मुड़े हुए कागज को काटने के तरीके को दर्शाया गया है। खोलने पर यह कागज कैसा दिखाई देगा?



30. The sequence of folding a piece of paper and the manner in which the folded paper has been cut is shown in the following figures. How would this paper look when unfolded?

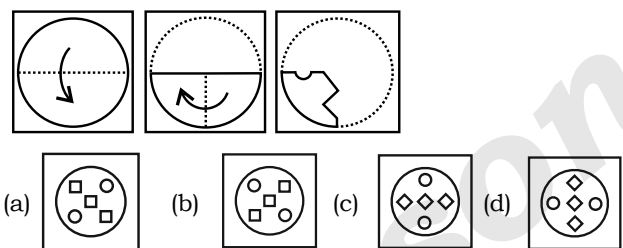
निम्नलिखित आकृतियों में किसी कागज के टुकड़े को मोड़ने के क्रम और मुड़े हुए कागज काटने के तरीके को दर्शाया गया है। खोलने पर यह कागज कैसा दिखाई देगा?





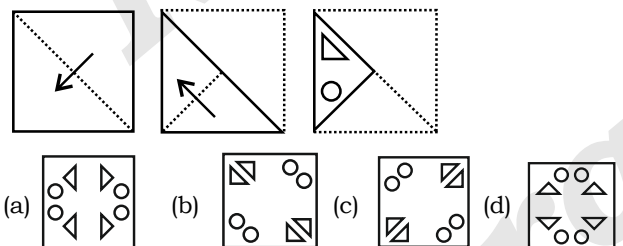
31. The sequence of folding a piece of paper and the manner in which the folded paper has been cut is shown in the following figures. How would this paper look when unfolded?

निम्नलिखित आकृतियों में किसी कागज के टुकड़े को मोड़ने के क्रम और मुड़े हुए कागज को काटने के तरीके को दर्शाया गया है। खोलने पर यह कागज कैसा दिखाई देगा?



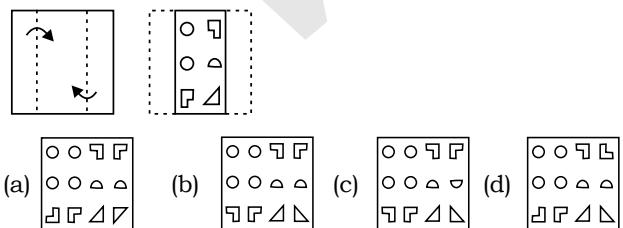
32. The sequence of folding a piece of paper and the manner in which the folded paper has been cut is shown in the following figures. How would this paper look when unfolded?

निम्नलिखित आकृतियों में किसी कागज के टुकड़े को मोड़ने के क्रम और मुड़े हुए कागज को काटने के तरीके को दर्शाया गया है। खोलने पर यह कागज कैसा दिखाई देगा?



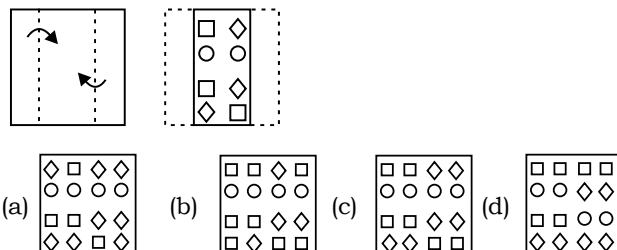
33. A Piece of paper is folded and punched as shown below in the question figure. From the given answer figure locate how it will appear when opened?

कागज के एक टुकड़े को मोड़ा जाता है और उसमें छेद किया जाता है जैसा कि नीचे प्रश्न आकृतियों में दिखाया गया है। दी गई उत्तर आकृतियों में से बताइए कि खोले जाने के बाद वह किस उत्तर आकृति के समान दिखाई देगा?



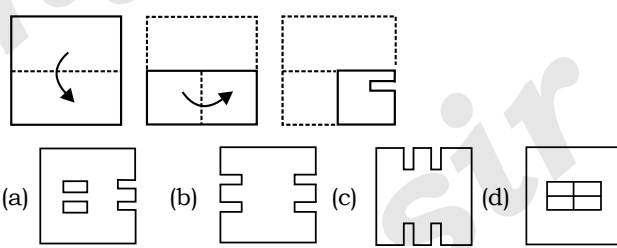
34. A Piece of paper is folded and punched as shown below in the question figures. From the given answer figures, indicate how it will appear when opened?

कागज के एक टुकड़े को मोड़ा जाता है और उसमें छेद किया जाता है जैसा कि नीचे प्रश्न आकृतियों में दिखाया गया है। दी गई उत्तर आकृतियों में से बताइए कि खोले जाने के बाद वह किस उत्तर आकृति के समान दिखाई देगी?



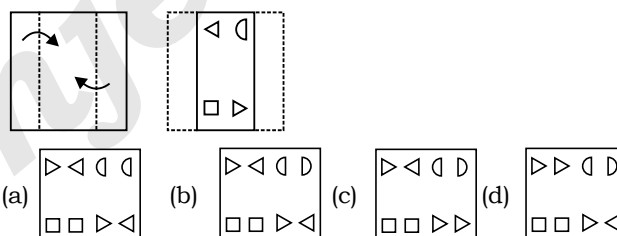
35. The sequence of folding a piece of paper and the manner in which the folded paper has been cut is shown in the following figures. How would this paper look when unfolded?

निम्नलिखित आकृतियों में किसी कागज के टुकड़े को मोड़ने के क्रम और मुड़े हुए कागज को काटने के तरीके को दर्शाया गया है। खोलने पर यह कागज कैसा दिखाई देगा?



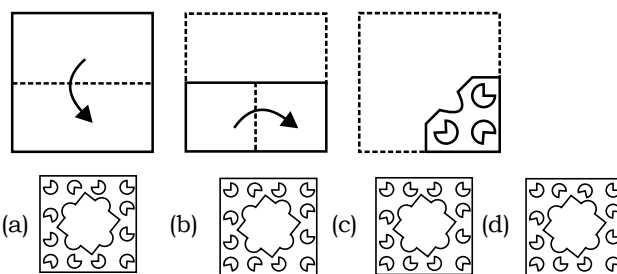
36. A piece of paper is folded and punched as shown below in the question figure. From the given answer figure, indicate how it will appear when opened?

कागज के एक टुकड़े को मोड़ा जाता है और उसमें छेद किया जाता है, जैसा कि नीचे प्रश्न आकृति में दिखाया गया है। दी गई उत्तर आकृति से बताइए कि खोलने पर यह किस उत्तर आकृति के समान दिखाई देगी?



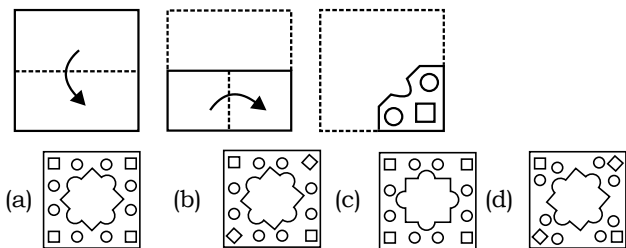
37. A piece of paper is folded and punched as shown below in the question figure. From the given answer figure, indicate how it will appear when opened?

कागज के एक टुकड़े को मोड़ा जाता है और उसमें छेद किया जाता है, जैसा कि नीचे प्रश्न आकृति में दिखाया गया है। दी गई उत्तर आकृति से बताइए कि खोलने पर यह किस उत्तर आकृति के समान दिखाई देगी?



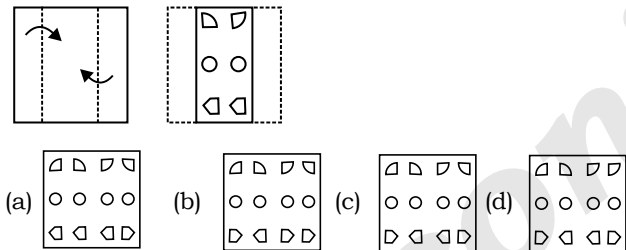
38. A piece of paper is folded and punched as shown below in the question figure. From the given answer figure, indicate how it will appear when opened?

कागज के एक टुकड़े को मोड़ा जाता है और उसमें छेद किया जाता है, जैसा कि नीचे प्रश्न आकृति में दिखाया गया है। दी गई उत्तर आकृति से बताइए कि खोलने पर यह किस उत्तर आकृति के समान दिखाई देगी?



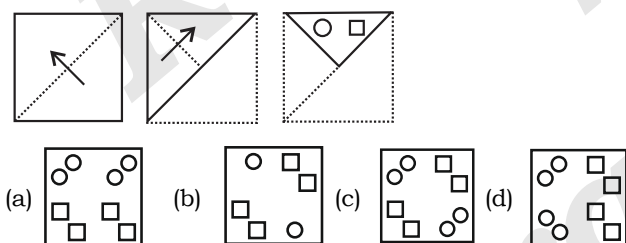
39. A piece of paper is folded and punched as shown below in the question figure. From the given answer figure, indicate how it will appear when opened?

कागज के एक टुकड़े को मोड़ा जाता है और उसमें छेद किया जाता है, जैसा कि नीचे प्रश्न आकृति में दिखाया गया है। दी गई उत्तर आकृति से बताइए कि खोलने पर यह किस उत्तर आकृति के समान दिखाई देगी?



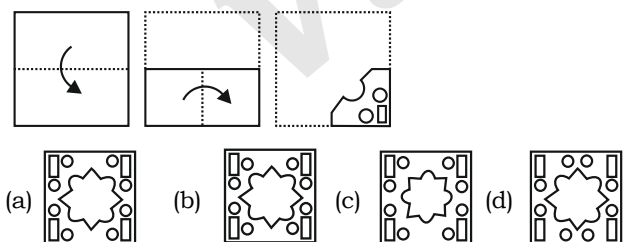
40. The sequence of folding a piece of paper and the manner in which the folded paper has been cut is shown in the following figures. How would this paper look when unfolded?

निम्नलिखित आकृतियों में किसी कागज के टुकड़े को मोड़ने के क्रम और मुड़े हुए कागज को काटने के तरीके को दर्शाया गया है। खोलने पर यह कागज कैसा दिखाई देगा?



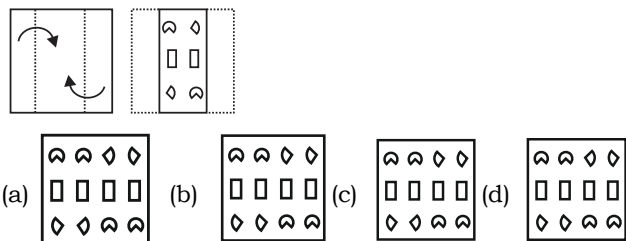
41. A piece of paper is folded and punched as shown below in the question figures. From the given answer figures, indicate how it will appear when opened?

कागज के एक टुकड़े को मोड़ा जाता है और उसमें छेद किया जाता है, जैसा कि नीचे प्रश्न आकृतियों में दिखाया गया है। दी गई उत्तर आकृतियों में से बताइए कि खोले जाने के बाद वह किस उत्तर आकृति के समान दिखाई देगी?



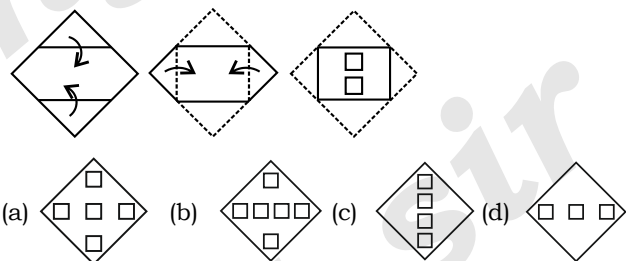
42. A piece of paper is folded and punched as shown below in the question figures. From the given answer figures, indicate how it will appear when opened?

कागज के एक टुकड़े को मोड़ा जाता है और उसमें छेद किया जाता है, जैसा कि नीचे प्रश्न आकृतियों में दिखाया गया है। दी गई उत्तर आकृतियों में से बताइए कि खोले जाने के बाद वह किस उत्तर आकृति के समान दिखाई देगी?



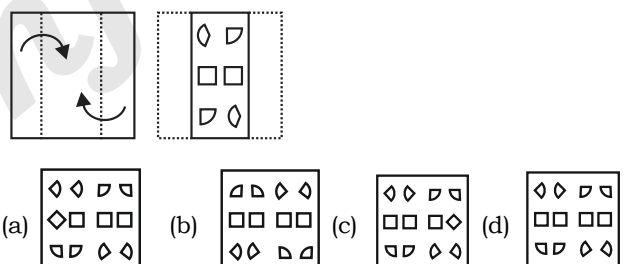
43. The sequence of folding a piece of paper and the manner in which the folded paper has been cut is shown in the following figures. How would this paper look when unfolded?

निम्नलिखित आकृतियों में किसी कागज के टुकड़े को मोड़ने के क्रम और मुड़े हुए कागज को काटने के तरीके को दर्शाया गया है। खोलने पर यह कागज कैसा दिखाई देगा?



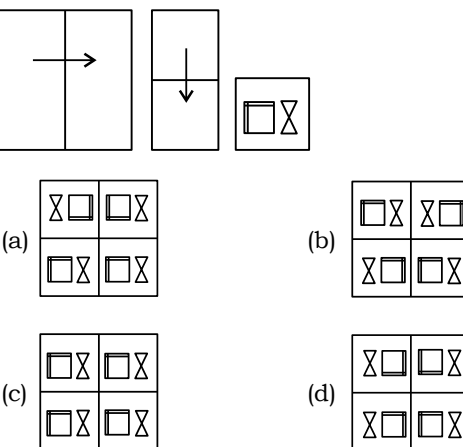
44. A Piece of paper is folded and punched as shown below in the question figure. From the given answer figure locate how it will appear when opened?

कागज के एक टुकड़े को मोड़ा जाता है और उसमें छेद किया जाता है, जैसा कि नीचे प्रश्न आकृतियों में दिखाया गया है। दी गई उत्तर आकृतियों में से बताइए कि खोले जाने के बाद वह किस उत्तर आकृति के समान दिखाई देगी?



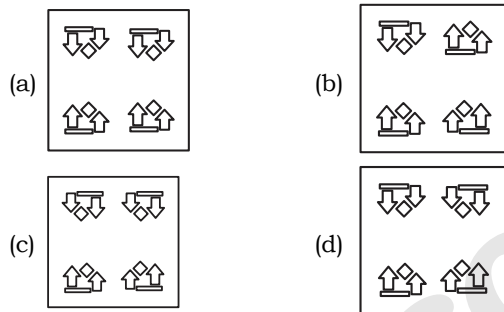
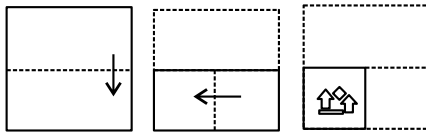
45. A paper is folded and cut as shown below. How will it appear when unfolded?

नीचे दिखाए अनुसार एक कागज को मोड़ा और काटा जाता है। अनफोल्ड होने पर यह कैसा दिखाई देगा?



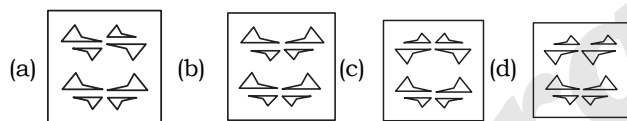
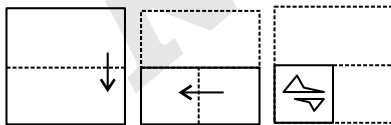
46. The sequence of folding a piece of paper and the manner in which the folded paper has been cut is shown below. Choose the figure that would most closely resemble the unfolded form of the paper.

कागज के एक टुकड़े को मोड़ने का क्रम और मोड़े गए कागज को किस प्रकार काटा गया है, नीचे दिखाया गया है। वह आकृति चुनें जो कागज के अनफोल्डेड फॉर्म से सबसे अधिक मिलती-जुलती हो।



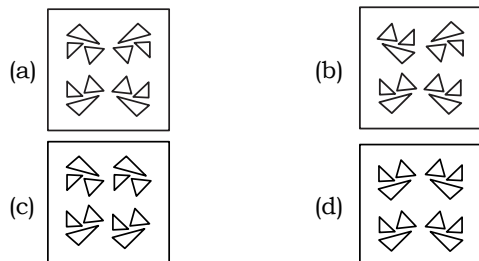
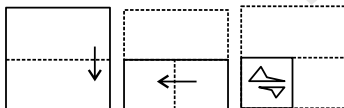
47. The sequence of folding a piece of paper and the manner in which the folded paper has been cut is shown below. Choose the figure that would most closely resemble the unfolded form of the paper.

कागज के एक टुकड़े को मोड़ने का क्रम और मोड़े गए कागज को किस प्रकार काटा गया है, नीचे दिखाया गया है। वह आकृति चुनें जो कागज के अनफोल्डेड फॉर्म से सबसे अधिक मिलती-जुलती हो।



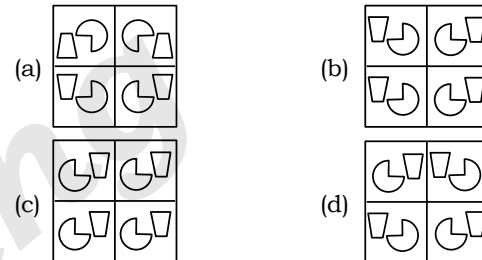
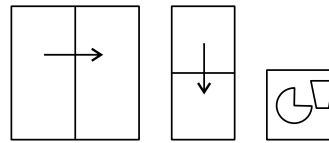
48. The sequence of folding a piece of paper and the manner in which the folded paper has been cut is shown below. Choose the figure that would most closely resemble the unfolded form of the paper.

कागज के एक टुकड़े को मोड़ने का क्रम और मोड़े गए कागज को किस प्रकार काटा गया है, नीचे दिखाया गया है। वह आकृति चुनें जो कागज के अनफोल्डेड फॉर्म से सबसे अधिक मिलती-जुलती हो।



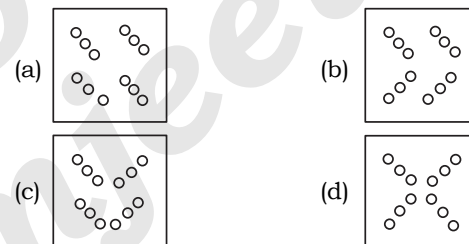
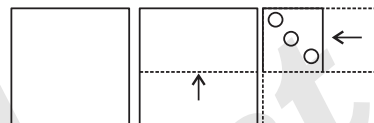
49. A paper is folded and cut as shown below. How will it appear when unfolded?

नीचे दिखाए अनुसार एक कागज को मोड़ा और काटा जाता है। अनफोल्ड होने पर यह कागज कैसा दिखाई देगा?



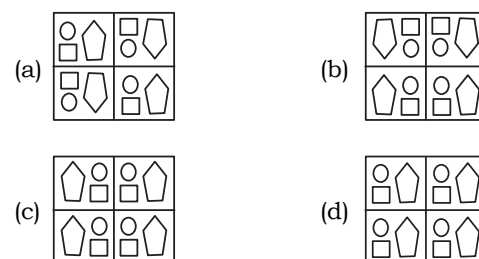
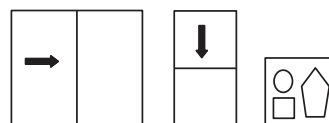
50. A paper is folded and cut as shown. How will it appear when unfolded?

दिखाए गए अनुसार एक कागज को मोड़ा और काटा जाता है। अनफोल्ड होने पर यह कैसा दिखाई देगा?



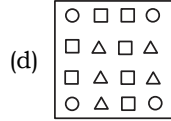
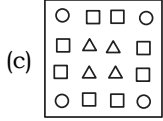
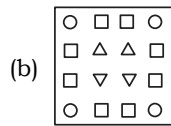
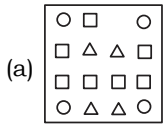
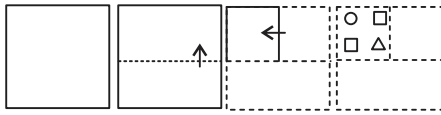
51. The sequence of folding a piece of paper and the manner in which the folded paper has been cut is shown in the following figures. How would this paper look when unfolded?

कागज के एक टुकड़े को मोड़ने का क्रम और जिस तरह से मुड़े हुए कागज को काटा गया है, उसे निम्नलिखित आकृतियों में दिखाया गया है। अनफोल्ड होने पर यह पेपर कैसा दिखेगा?



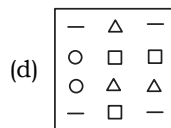
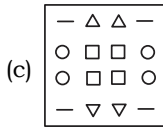
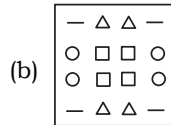
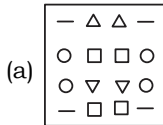
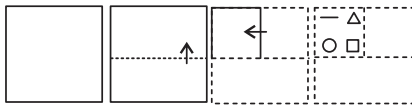
52. A paper is folded and cut as shown below. How will it appear when unfolded?

नीचे दिखाए अनुसार एक कागज को मोड़ा और काटा जाता है। अनफोल्ड होने पर यह कैसा दिखाई देगा?



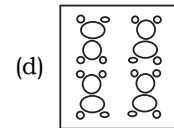
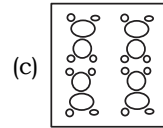
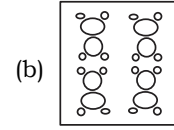
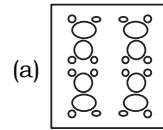
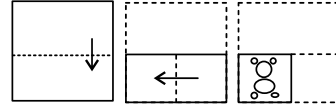
53. A paper is folded and cut as shown below. How will it appear when unfolded?

नीचे दिखाए अनुसार एक कागज को मोड़ा और काटा जाता है। अनफोल्ड होने पर यह कैसा दिखाई देगा?



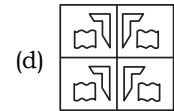
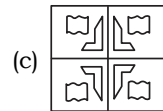
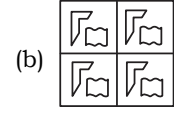
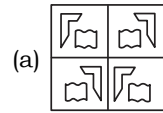
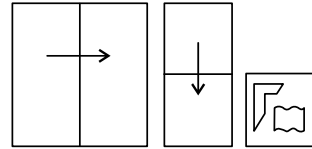
54. The sequence of folding a piece of paper and the manner in which the folded paper has been cut is shown below. Choose the figure that would most closely resemble the unfolded form of the paper.

कागज के एक टुकड़े को मोड़ने का क्रम और मोड़े गए कागज को किस प्रकार काटा गया है, नीचे दिखाया गया है। वह आकृति चुनें जो कागज के अनफोल्डेड फॉर्म से सबसे अधिक मिलती-जुलती हो।



55. A paper is folded and cut as shown below. How will it appear when unfolded?

नीचे दिखाए अनुसार एक कागज को मोड़ा और काटा जाता है। अनफोल्ड होने पर यह कैसा दिखाई देगा?



Answer-Key

1. (a)	2. (a)	3. (d)	4. (c)	5. (d)	6. (d)	7. (a)	8. (c)	9. (b)	10. (b)
11. (d)	12. (d)	13. (b)	14. (b)	15. (a)	16. (c)	17. (d)	18. (a)	19. (c)	20. (d)
21. (d)	22. (a)	23. (c)	24. (b)	25. (c)	26. (c)	27. (b)	28. (c)	29. (b)	30. (c)
31. (d)	32. (b)	33. (b)	34. (c)	35. (b)	36. (b)	37. (d)	38. (a)	39. (c)	40. (c)
41. (a)	42. (a)	43. (c)	44. (d)	45. (d)	46. (d)	47. (c)	48. (a)	49. (a)	50. (d)
51. (b)	52. (b)	53. (c)	54. (a)	55. (c)					

Answer With Explanation

